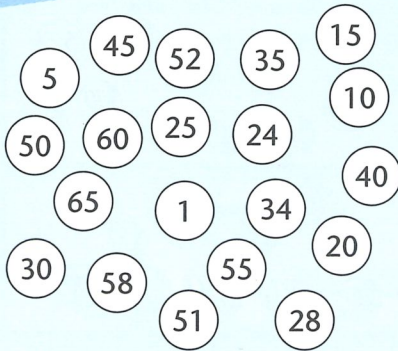
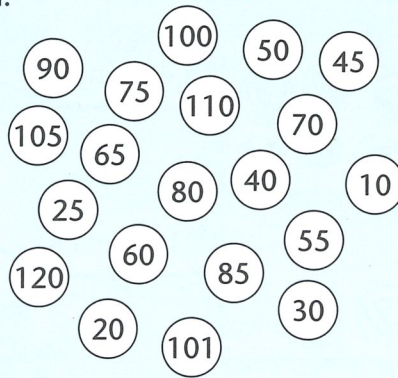


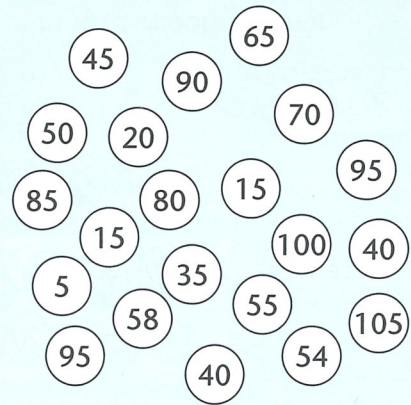
1 Kleur de getallen uit de tafel.



tafel van 5






tafel van 10




beide tafels

2 Wat is evenveel waard?  
Kleur net zo.



3 Zoek de poffertjes met hetzelfde antwoord.  
Kleur net zo.





1 Kleur het goede bedrag.

50 cent		45 cent	
75 cent		100 cent	
95 cent		80 cent	

2 Welk briefje of welke munt moet erbij? Vul in.

€ 50		<input type="text"/>
€ 65		<input type="text"/>
€ 85		<input type="text"/>
€ 17		<input type="text"/>
€ 49		<input type="text"/>
€ 26		<input type="text"/>

3 Maak de bedragen. Gebruik zo weinig mogelijk briefjes of munten. Kleur net zo.



1 Hoe laat is het?  
Kleur.



kwart voor 8

kwart voor 7

kwart over 6



half 1

half 12

5 over 6



5 over 5

10 voor 5

5 voor 5



5 over 8

10 over 8

5 over 7





10 over 9


10 over 8

5 over 8





2 Teken de wijzers.



3 Zet in de goede volgorde.  
Van vroeg naar laat.  
Vul in.



1



4 Welke klok?  
Kleur.





1 Reken uit en vul in.

Jip koopt 52 poffertjes.  
Janneke koopt er 25.

Dan hebben ze samen ..... poffertjes.

Theo bakt 64 poffertjes.  
Arend bakt er 35 meer.

Arend bakt ..... poffertjes.

Op een schaal liggen 43 poffertjes.  
Ilse haalt er 32 vanaf.


Dan liggen er nog ..... poffertjes.



2 Reken uit en vul in.


Uit 2 pakken sap schenk ik 15 glazen.  
Uit 2 andere pakken nog eens 13.  
Ik heb 45 glazen nodig.

Hoeveel glazen heb ik te weinig? ..... glazen



De bakker heeft 93 broden nodig.  
Hij heeft er al 87 gebakken.

Hoeveel broden moet hij nog bakken? ..... broden



In het restaurant staan 76 glazen.  
39 glazen zijn nog vuil.

Hoeveel schone glazen staan er? ..... glazen



Het restaurant heeft 100 messen.  
Op de tafels liggen 52 messen.  
In de vaatwasser liggen er 38.

Hoeveel messen zijn kwijt? ..... messen

