



1

a Reken uit.
Doe het snel.

- | | | | | |
|-----------------------------|-----------------------------|-----------------------------|-----------------------------|-----------------------------|
| $17 + 35 = \dots\dots\dots$ | $24 + 17 = \dots\dots\dots$ | $35 + 38 = \dots\dots\dots$ | $27 + 46 = \dots\dots\dots$ | $17 + 34 = \dots\dots\dots$ |
| $46 + 45 = \dots\dots\dots$ | $45 + 37 = \dots\dots\dots$ | $28 + 35 = \dots\dots\dots$ | $26 + 37 = \dots\dots\dots$ | $62 + 19 = \dots\dots\dots$ |
| $53 + 38 = \dots\dots\dots$ | $44 + 28 = \dots\dots\dots$ | $36 + 55 = \dots\dots\dots$ | $59 + 28 = \dots\dots\dots$ | $45 + 28 = \dots\dots\dots$ |
| $62 + 29 = \dots\dots\dots$ | $66 + 35 = \dots\dots\dots$ | $53 + 28 = \dots\dots\dots$ | $58 + 39 = \dots\dots\dots$ | $42 + 36 = \dots\dots\dots$ |

b Vul in.

in	+ 14		+ 16		+ 18	uit
32						
52						

in	+ 27		+ 19		+ 31	uit
				63		
						100

2



Schrijf onder elkaar en reken uit.

$528 + 264 = \dots\dots\dots$

$217 + 465 = \dots\dots\dots$


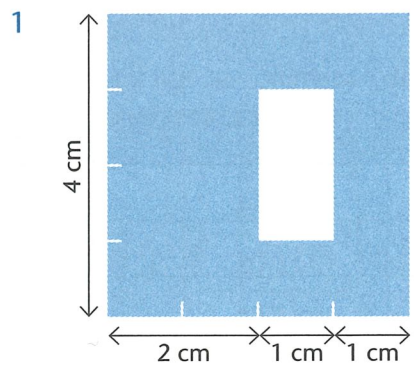
$436 + 348 = \dots\dots\dots$

$569 + 246 = \dots\dots\dots$



3

Reken uit.



- a De oppervlakte van het gekleurde gedeelte is: 1 cm² 2 cm²
 De omtrek van het gekleurde gedeelte is: 1 cm 2 cm
- b Schrijf in de tekening de maten van figuur a en b in millimeter.

- 4 a Reken uit.
Doe het snel.

$25 + 46 = \dots\dots\dots$	$35 + 37 = \dots\dots\dots$	$37 + 15 = \dots\dots\dots$	$37 + 25 = \dots\dots\dots$	$35 + 46 = \dots\dots\dots$
$47 + 54 = \dots\dots\dots$	$48 + 43 = \dots\dots\dots$	$52 + 29 = \dots\dots\dots$	$49 + 34 = \dots\dots\dots$	$48 + 38 = \dots\dots\dots$
$25 + 38 = \dots\dots\dots$	$46 + 28 = \dots\dots\dots$	$45 + 37 = \dots\dots\dots$	$67 + 14 = \dots\dots\dots$	$36 + 46 = \dots\dots\dots$
$56 + 37 = \dots\dots\dots$	$57 + 15 = \dots\dots\dots$	$44 + 19 = \dots\dots\dots$	$58 + 29 = \dots\dots\dots$	$27 + 59 = \dots\dots\dots$
$34 + 57 = \dots\dots\dots$	$49 + 51 = \dots\dots\dots$	$63 + 28 = \dots\dots\dots$	$46 + 37 = \dots\dots\dots$	$56 + 27 = \dots\dots\dots$

- b Vul in.

+		55		77
18	62		84	
23				

+	54	63	75	87
				96
				100

- 5 Reken uit.

H	T	E
5	7	1
3	5	6
<hr/>		

H	T	E
7	4	5
3	8	3
<hr/>		

H	T	E
8	6	4
3	5	8
<hr/>		

H	T	E
9	3	6
3	2	9
<hr/>		

- 6 Tel verder of tel terug.

1000 meer of minder

7495	
8495	2749
	3749

1000 meer of minder

13 614	20 869
14 614	21 869

1000 meer of minder

10 189	31 098

1000 meer of minder

	32 746
18 484	



7 a Reken uit.
Doe het snel.

- | | | | | |
|-----------------------------|-----------------------------|-----------------------------|-----------------------------|-----------------------------|
| $45 + 27 = \dots\dots\dots$ | $35 + 47 = \dots\dots\dots$ | $34 + 28 = \dots\dots\dots$ | $43 + 37 = \dots\dots\dots$ | $24 + 48 = \dots\dots\dots$ |
| $33 + 39 = \dots\dots\dots$ | $49 + 44 = \dots\dots\dots$ | $25 + 17 = \dots\dots\dots$ | $52 + 29 = \dots\dots\dots$ | $53 + 37 = \dots\dots\dots$ |
| $47 + 26 = \dots\dots\dots$ | $28 + 35 = \dots\dots\dots$ | $47 + 39 = \dots\dots\dots$ | $31 + 38 = \dots\dots\dots$ | $32 + 19 = \dots\dots\dots$ |
| $28 + 67 = \dots\dots\dots$ | $37 + 18 = \dots\dots\dots$ | $56 + 25 = \dots\dots\dots$ | $44 + 47 = \dots\dots\dots$ | $26 + 57 = \dots\dots\dots$ |
| $54 + 25 = \dots\dots\dots$ | $54 + 29 = \dots\dots\dots$ | $62 + 19 = \dots\dots\dots$ | $35 + 28 = \dots\dots\dots$ | $33 + 66 = \dots\dots\dots$ |

b Vul in.

in	+ 13		+ 17		+ 19	uit	in	+		+		+ 39	uit
31									28			56	
51							16						100



8 Schrijf onder elkaar en reken uit.

$183 + 529 = \dots\dots\dots$

$542 + 239 = \dots\dots\dots$

$337 + 434 = \dots\dots\dots$

$458 + 346 = \dots\dots\dots$



9 Vul in.

×	10	12	14	16	18	20
2						
4						
6						
8						

×				
4	52			
8		136		
3			57	
6				138

- 1 a Vul in.
Doe het snel.

in	x 50	uit	in	x 70	uit	in	x 40	uit	in	x 80	uit
70			80			90			90		
700			800			900			900		
80			90			10			80		
800			900			100			800		

- b Vul in.

in	x 3		x 30		x 50	uit	in	x 4		x 40		x 60	uit
4												320	
40							20						

- 2 Reken uit.

H	T	E	H	T	E	H	T	E	H	T	E
5	3	6	7	0	5	8	4	2	9	2	7
3	7	4	3	6	3	5	3	7	5	7	5
-			-			-			-		

- 3 Vul in.

- a In een kwartier zitten minuten. Dat zijn seconden.
- b Ik ben op maandag van 9 uur tot 12 uur en van half 2 tot half 4 op school.
Dat zijn uren, of minuten, of seconden.
- c We krijgen iedere week 5 rekenlessen van 55 minuten. Als we 40 weken rekenles krijgen dan krijgen we in totaal uren en minuten rekenles in 1 jaar.
- d De vrachtauto vertrekt om 06:25 uur en komt aan om 13:55 uur.
De reis duurde uren en minuten.
- e Het jaar 2012 heeft dagen. Dit komt doordat
- f Welke kwartalen hebben de meeste dagen? Het en het kwartaal.

4 a Vul in.

x	4	40	400
3			
30			
50			

	x →	
x ↓	3	4
	5	6
	15	24
		360

	x →	
x ↓	10	8
	5	3

b Vul in.

in	x 60	uit
7		
70		
700		

in	x 80	uit
8		
80		
800		

in	x 70	uit
9		
90		
900		

in	x 90	uit
5		
50		
500		

5 Schrijf onder elkaar en reken uit.

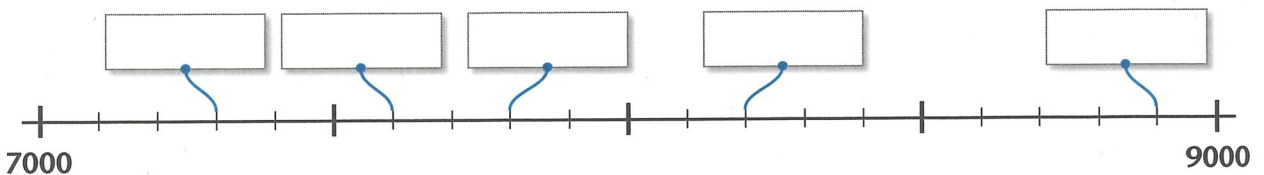
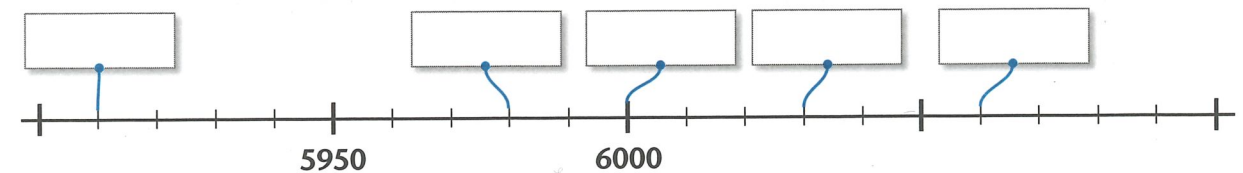
$472 + 329 = \dots\dots\dots$

$367 + 382 = \dots\dots\dots$

$536 + 273 = \dots\dots\dots$

$268 + 327 = \dots\dots\dots$

6 Vul in.



7 a Vul in.
Doe het snel.

in	x 90	uit
30		
300		
9		
90		
900		

in	x 60	uit
		2400
400		
		420
70		
		4800

in	x 80	uit
50		
		4800
8		
		5600
800		

in	x 70	uit
		4200
600		
		700
100		
		6300

b Vul in.

in	x 5		x 30		x 50	uit
				750		
		250				

in	x 3		x 50		x 70	uit
						42 000
						63 000

8 Reken uit.

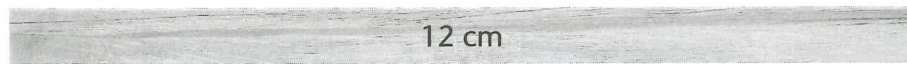
H	T	E
7	3	5
4	7	2
<hr/>		

H	T	E
9	3	7
3	8	1
<hr/>		

H	T	E
5	0	6
2	6	3
<hr/>		


H	T	E
8	6	1
4	4	8
<hr/>		

9 Welk deel is het?
Vul in.



Dit is de hele plank.

a  Dit is deel van de plank.

b  Dit is deel van de plank.

c  Dit is deel van de plank.

d  Dit is deel van de plank.

e  Dit is deel van de plank.



1

a Vul in.

in	$\times 70$	uit
		630
90		
		63 000

in	$\times 80$	uit
7		
		5600
700		

in	$\times 90$	uit
		720
60		
		45 000

in	$\times 60$	uit
3		
		3000
700		

b Vul in.

\times	8	80	800
40			
60			

	$\xrightarrow{\times}$		
$\downarrow \times$	2	4	
	5	3	

	$\xrightarrow{\times}$		
$\downarrow \times$	5	6	
	3	3	

2

Schrijf onder elkaar en reken uit.

$582 + 338 = \dots\dots\dots$

$367 + 415 = \dots\dots\dots$


$493 + 285 = \dots\dots\dots$

$426 + 395 = \dots\dots\dots$




3


a Kleur het goede gewicht.



330 g
750 g
950 g




200 g
20 g
2 g




100 g
400 g
$\frac{1}{2}$ kg


b Kleur de goede inhoud.



1000 ml
250 ml
10 l



250 ml
250 cl
2,5 l



450 ml
450 cl
45 l

4 a Vul in.

x	60	70	80
	480		
		5600	
90			

	x →	
	4	6
x ↓	3	2

	x →	
	4	5
x ↓	6	7

b Vul in.

in	x 80	uit
5		
		7200
		8000

in	x 60	uit
8		
		5400
700		

in	x 50	uit
9		
		3500
500		

in	x 40	uit
90		
		32 000
700		

5 Schrijf de getallen in het schema en reken uit.

563 - 285 =

	H	T	E
-			

724 - 481 =

	H	T	E
-			

652 - 491 =

	H	T	E
-			

572 - 356 =

	H	T	E
-			

6 Rond af.

	op tientallen
998	→
3749	→
3983	→
4504	→
5796	→

	op tientallen
9798	→
6874	→
8401	→
7777	→
5555	→

	op honderdtallen
73 439	→
91 367	→
83 553	→
60 368	→
76 757	→



7 a Vul in.

×	6	60	600
	420		
		42 000	
800			480 000

	x →	
x ↓	4	4
	3	3

	x →	
x ↓	5	2
	6	3

b Vul in.

in	× 500	uit
		1500
90		
		22 500

in	× 700	uit
40		
		42 000
80		

in	× 900	uit
30		
		45 000
70		



8 Schrijf onder elkaar en reken uit.

674 + 237 =

737 + 179 =

824 + 463 =

906 + 584 =



9 Reken uit.

		samen	verschil
4299	2367		
4567	3087		
	3969	9007	
6106			2521
	1013		5995

	× 31
1609	
1837	
	38 254
1975	
	57 753

	: 24
29 616	
	3456
67 632	
	1942
47 376	

1 Samen 100 of 1000.
Doe het snel.

100		1000		100		1000		100	
38	375	27	280	44
66	400	48	330	32
24	425	63	470	53
42	475	54	560	26
71	525	35	730	51

2 Reken uit.


$$\begin{array}{r} 707 \\ + 288 \\ \hline \end{array}$$

$$\begin{array}{r} 407 \\ + 365 \\ \hline \end{array}$$

$$\begin{array}{r} 258 \\ + 181 \\ \hline \end{array}$$

$$\begin{array}{r} 523 \\ + 286 \\ \hline \end{array}$$

3 Hoe laat was het anderhalf uur geleden?
Schrijf in woorden en ook in 2 digitale tijden.



klok	analoge tijd	digitale tijd	digitale tijd
a	 : uur : uur
b	 : uur : uur
c	 : uur : uur
d	 : uur : uur
e	 : uur : uur



4

Samen 100 of 1000.
Doe het snel.

100	1000	100	1000	100
18	275	28	125	33
35	435	73	475	47
56	325	54	525	59
77	550	82	645	61
80	725	41	875	72

5



Reken uit.

$$\begin{array}{r} 282 \\ + 395 \\ \hline \end{array}$$

$$\begin{array}{r} 437 \\ + 345 \\ \hline \end{array}$$

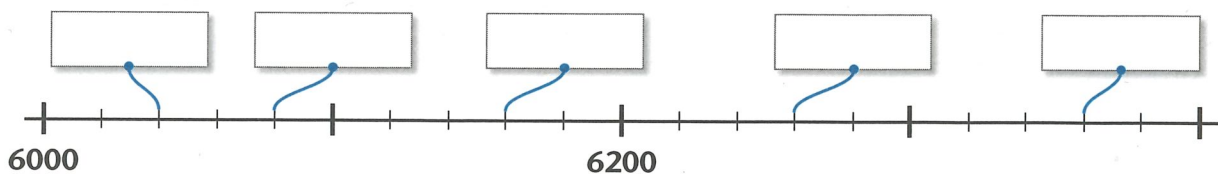
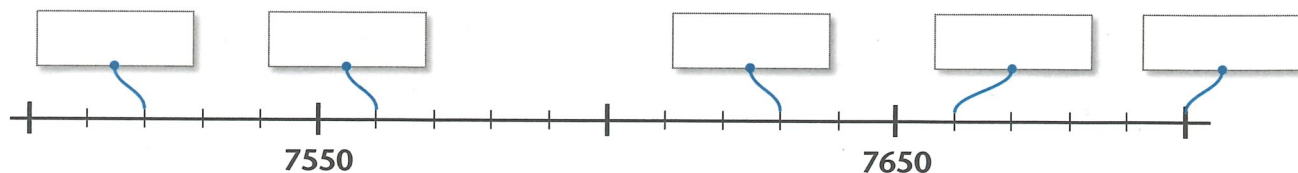
$$\begin{array}{r} 564 \\ + 384 \\ \hline \end{array}$$

$$\begin{array}{r} 648 \\ + 247 \\ \hline \end{array}$$



6

Vul in.



7 Samen 100 of 1000.
Doe het snel.

100		1000		100		1000		100	
21	733	74	590	43
45	525	39	345	67
32	440	46	411	38
54	901	53	653	52
73	875	88	721	81

8 Reken uit.

$$\begin{array}{r} 335 \\ + 247 \\ \hline \end{array}$$

$$\begin{array}{r} 696 \\ + 175 \\ \hline \end{array}$$

$$\begin{array}{r} 439 \\ + 288 \\ \hline \end{array}$$

$$\begin{array}{r} 576 \\ + 238 \\ \hline \end{array}$$

9 Rond af op tientallen. Reken dan uit.

		samen ongeveer	verschil ongeveer
€ 776,-	€ 465,-		
€ 833,-	€ 555,-		
€ 705,-	€ 406,-		
€ 896,-	€ 385,-		
€ 975,-	€ 425,-		

		samen ongeveer	verschil ongeveer
€ 996,-	€ 523,-		
€ 882,-	€ 375,-		
€ 683,-	€ 434,-		
€ 786,-	€ 478,-		
€ 934,-	€ 624,-		