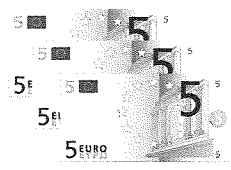
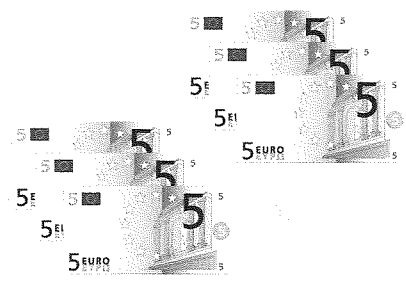


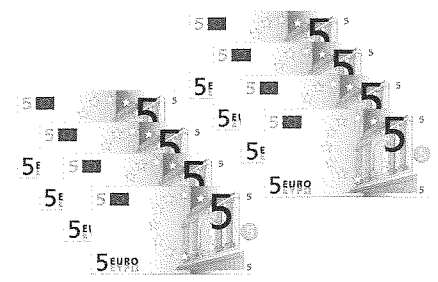
1 Hoeveel euro?




..... x 5 euro = euro



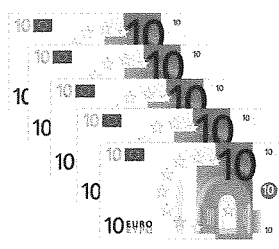
..... x 5 euro = euro




..... x 5 euro = euro



..... x 10 euro = euro



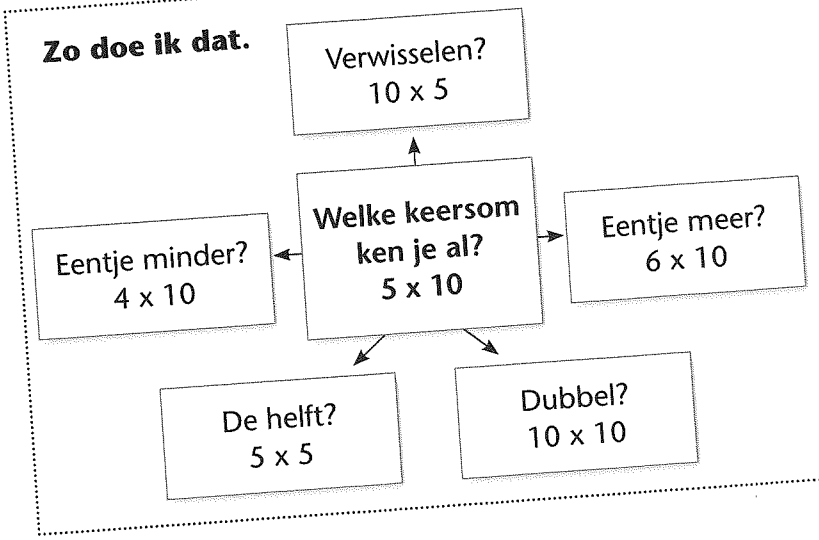
..... x 10 euro = euro

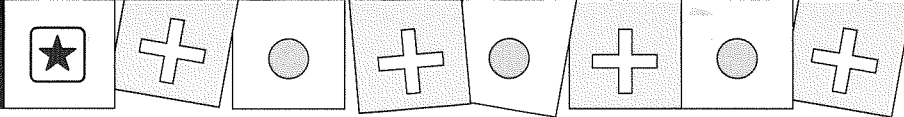


..... x 10 euro = euro

Maak vast aan de getallenlijn.







2 Maak vast aan de getallenlijn.







1 Kleur het goede bedrag.

Ik betaal met:

25 euro			
35 euro			

Vul het goede bedrag in.

Het kost:	Ik betaal met:	Dit krijg ik terug:
10 euro		<input type="text"/> <input type="text"/>
38 euro		<input type="text"/> <input type="text"/> <input type="text"/>

Zo doe ik dat.

Je betaalt met?

- 1 Wat kost het?
- 2 Welk briefje komt daar het dichtst bij?
Let op: Het mag niet méér zijn.
- 3 Moet er nog iets bij?










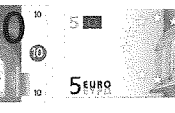
Zo doe ik dat.

Je betaalt en je krijgt terug.




- 1 Wat kost het? euro.
- 2 Je betaalt met? euro.
- 3 Tel door naar het briefje waarmee je betaalt.

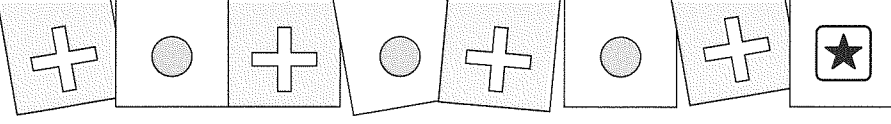
2 Kleur het goede bedrag.

Ik betaal met:


15 euro					
75 euro					

Vul het goede bedrag in.

Het kost:	Ik betaal met:	Dit krijg ik terug:
28 euro	 	<input type="text"/> <input type="text"/> <input type="text"/>
43 euro		<input type="text"/> <input type="text"/> <input type="text"/>



1 Hoe laat is het?
Vul het uur in.
Kleur het goede vakje.




5

voor
over




5

voor
over




10

voor
over



10

voor
over



5

voor
over


 half



5

voor
over


 half



10

voor
over

 half



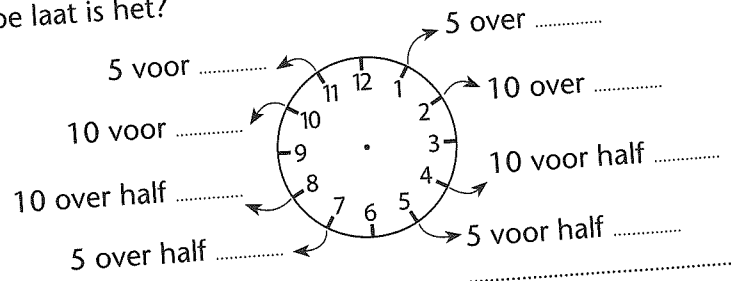
10

voor
over


 half

Zo doe ik dat.


Hoe laat is het?




2 Hoe laat is het?
Vul in.




.....




.....



.....




.....



.....



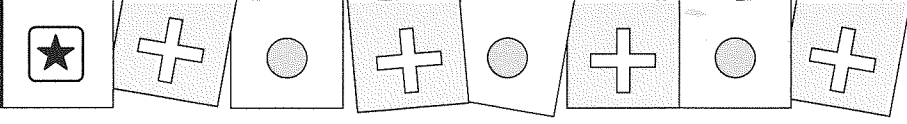
.....



.....




.....



1 Reken uit. Vul het antwoord in.
Teken op de getallenlijn hoe je rekent.


Juf heeft 29 kaarsen nodig.
Ze heeft er al 21.
Hoeveel kaarsen moet ze nog pakken?

Ze moet kaarsen pakken.




In een zak zitten 32 snoepjes.
Juf deelt er 25 uit.
Hoeveel snoepjes zijn er over?

Er zijn snoepjes over.



Op een stickervel zitten 40 stickers.
Juf geeft 26 kinderen een sticker.
Hoeveel stickers zijn er over?

Er zijn stickers over.



Zo doe ik dat.

- 1 Waar sta je?
- 2 Moet er iets bij of iets af?
- 3 Iets erbij:
Waar moet je uitkomen?
Hoeveel sprongen en welke huppen er tussen?
- of: 3 Iets eraf:
Hoeveel sprongen en welke huppen terug?
Waar kom je uit?



2 Reken uit.

In een doos zitten 29 gebakjes.
Mama haalt er 22 uit.
Hoeveel gebakjes zijn er over?

Er zijn gebakjes over.

Mama heeft 21 kaarsen nodig.
Ze heeft er al 13.
Hoeveel moet ze er nog pakken?

Mama moet kaarsen pakken.

Juf heeft 56 snoepjes.
Ze deelt er 42 uit.
Hoeveel snoepjes zijn er over?

Er zijn nog snoepjes over.

