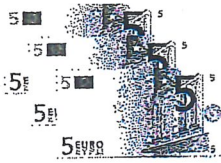
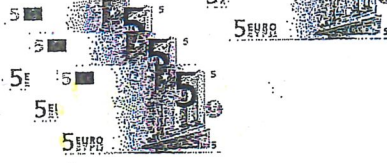


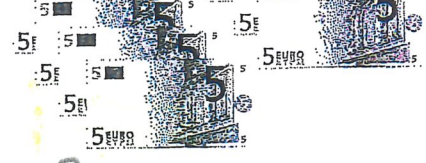
1 Hoeveel euro?



3 x 5 euro = 15 euro




6 x 5 euro = 30 euro



8 x 5 euro = 40 euro



2 x 10 euro = 20 euro

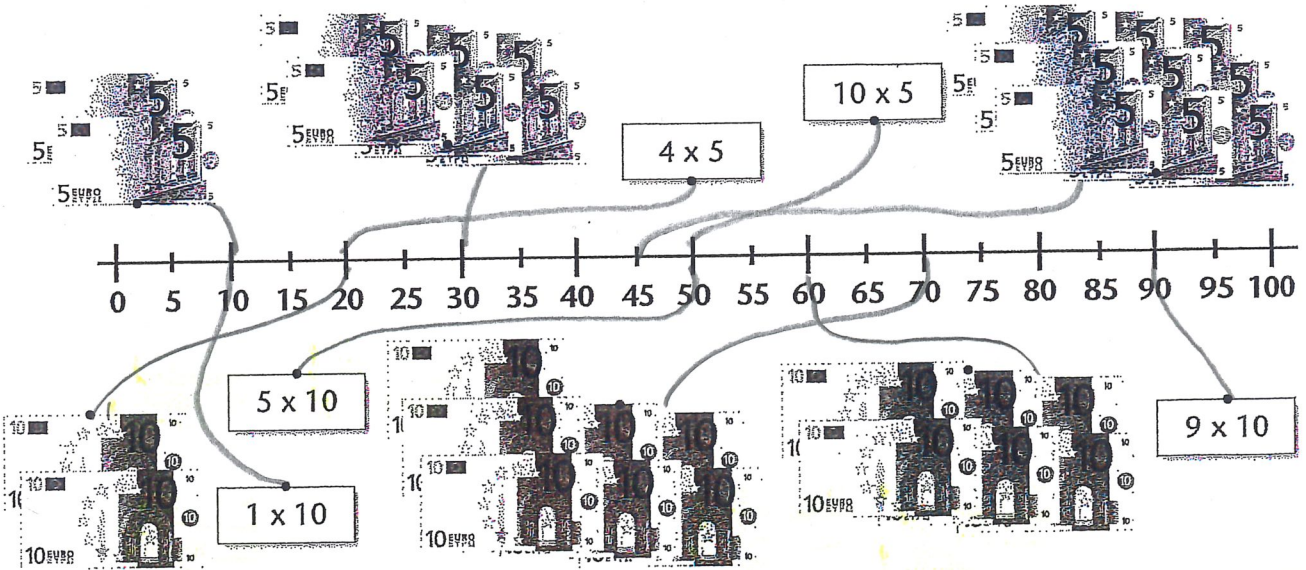


5 x 10 euro = 50 euro

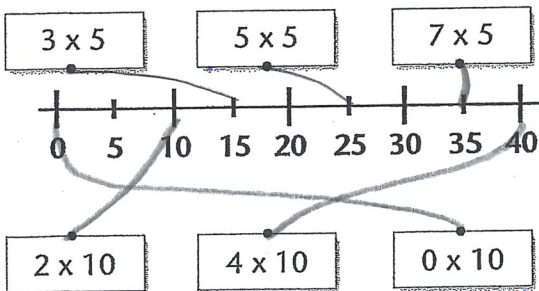


9 x 10 euro = 90 euro

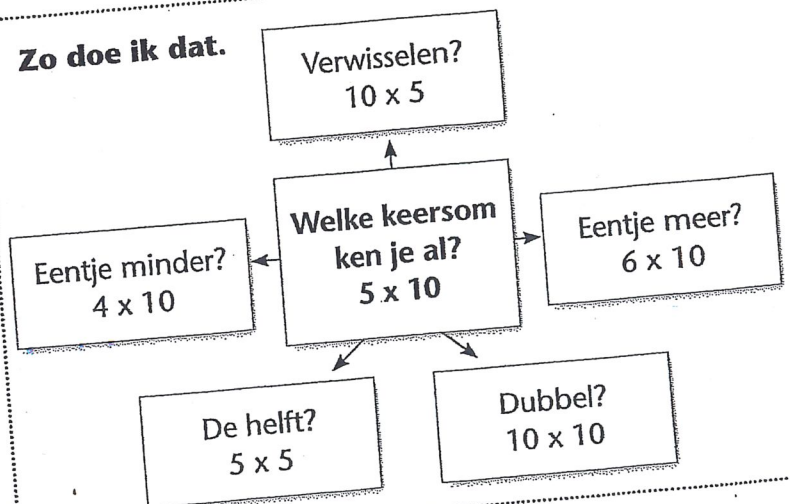
Maak vast aan de getallenlijn.



2 Maak vast aan de getallenlijn.



Zo doe ik dat.



1

Kleur het goede bedrag.

	Ik betaal met:
25 euro	
35 euro	

Vul het goede bedrag in.

Het kost:	Ik betaal met:	Dit krijg ik terug:
10 euro		10 <input type="text"/> of 5 + 5
38 euro		10 <input type="text"/> 2 <input type="text"/>

2

Kleur het goede bedrag.

	Ik betaal met:
15 euro	
75 euro	

Vul het goede bedrag in.

Het kost:	Ik betaal met:	Dit krijg ik terug:
28 euro		10 <input type="text"/> 2 <input type="text"/>
43 euro		5 <input type="text"/> 2 <input type="text"/>

Zo doe ik dat.

Je betaalt met?

- 1 Wat kost het?
- 2 Welk briefje komt daar het dichtst bij?
Let op: Het mag niet méér zijn.
- 3 Moet er nog iets bij?

Zo doe ik dat.

Je betaalt en je krijgt terug.

- 1 Wat kost het? euro.
- 2 Je betaalt met? euro.
- 3 Tel door naar het briefje waarmee je betaalt.

1 Hoe laat is het?
Vul het uur in.
Kleur het goede vakje.



5 voor over 9



5 voor over 12



10 voor over 8



10 voor over 3



5 voor over half 1



5 voor over half 5



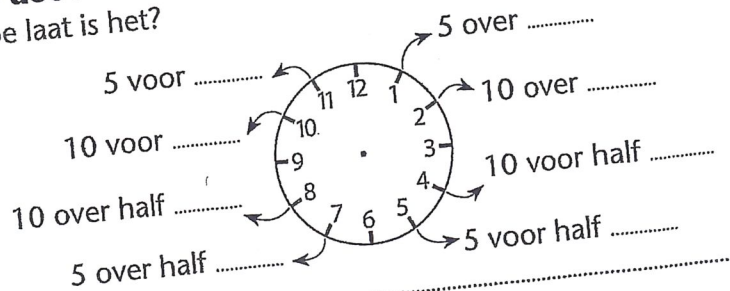
10 voor over half 2



10 voor over half 8

Zo doe ik dat.

Hoe laat is het?



2 Hoe laat is het?
Vul in.



10 over 3



5 voor half 7




5 voor 12



10 over half 9



10 voor half 6



5 over 12



5 over half 10




10 voor 11



1 Reken uit. Vul het antwoord in.
Teken op de getallenlijn hoe je rekent.

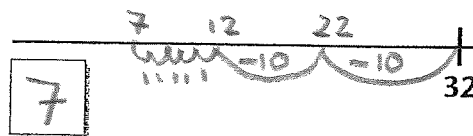
Juf heeft 29 kaarsen nodig.
Ze heeft er al 21.
Hoeveel kaarsen moet ze nog pakken?

Ze moet 8 kaarsen pakken.



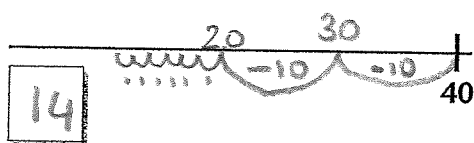
In een zak zitten 32 snoepjes.
Juf deelt er 25 uit.
Hoeveel snoepjes zijn er over?

Er zijn 7 snoepjes over.



Op een stickervel zitten 40 stickers.
Juf geeft 26 kinderen een sticker.
Hoeveel stickers zijn er over?

Er zijn 14 stickers over.



Zo doe ik dat.

- 1 Waar sta je?
- 2 Moet er iets bij of iets af?
- 3 Iets erbij:
Waar moet je uitkomen?
Hoeveel sprongen en welke huppen er tussen?
- of: 3 Iets eraf:
Hoeveel sprongen en welke huppen terug?
Waar kom je uit?



2 Reken uit.

In een doos zitten 29 gebakjes.
Mama haalt er 22 uit.
Hoeveel gebakjes zijn er over?

Er zijn 7 gebakjes over.

Mama heeft 21 kaarsen nodig.
Ze heeft er al 13.
Hoeveel moet ze er nog pakken?


Mama moet 8 kaarsen pakken.

Juf heeft 56 snoepjes.
Ze deelt er 42 uit.
Hoeveel snoepjes zijn er over?

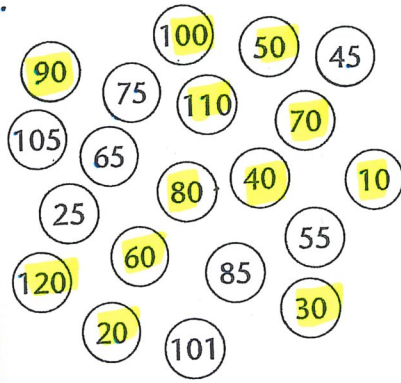
Er zijn nog 14 snoepjes over.



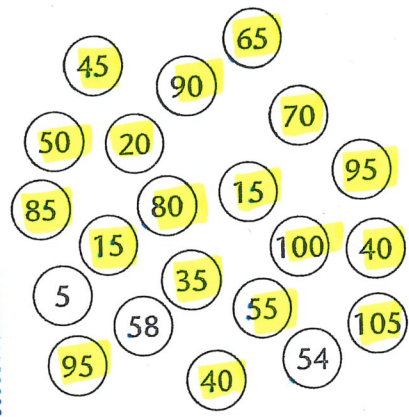
1 Kleur de getallen uit de tafel.



tafel van 5



tafel van 10



beide tafels

2 Wat is evenveel waard? Kleur net zo.

3 Zoek de poffertjes met hetzelfde antwoord. Kleur net zo.

1 Kleur het goede bedrag.

50 cent		45 cent	
75 cent		100 cent	
95 cent		80 cent	

2 Welk briefje of welke munt moet erbij? Vul in.

€ 50				<input type="text"/>	
€ 65			<input type="text"/>	<input type="text"/>	
€ 85				<input type="text"/>	
€ 17			<input type="text"/>	<input type="text"/>	
€ 49					<input type="text"/>
€ 26					<input type="text"/>

3 Maak de bedragen. Gebruik zo weinig mogelijk briefjes of munten. Kleur net zo.

--	--

1 Hoe laat is het?
Kleur.



- kwart voor 8
- kwart voor 7
- kwart over 6



- half 1
- half 12
- 5 over 6



- 5 over 5
- 10 voor 5
- 5 voor 5





- 5 over 8
- 10 over 8
- 5 over 7






- 10 over 9
- 10 over 8
- 5 over 8



2 Teken de wijzers.



3 Zet in de goede volgorde.
Van vroeg naar laat.
Vul in.



4 Welke klok?
Kleur.

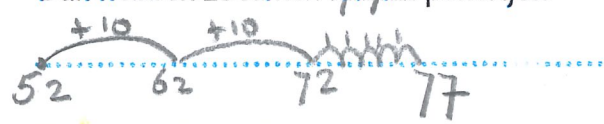




1 Reken uit en vul in.


Jip koopt 52 poffertjes.
Janneke koopt er 25.

Dan hebben ze samen 77 poffertjes.



Theo bakt 64 poffertjes.
Arend bakt er 35 meer.

Arend bakt 99 poffertjes.



Op een schaal liggen 43 poffertjes.
Ilse haalt er 32 vanaf.


Dan liggen er nog 11 poffertjes.



2 Reken uit en vul in.

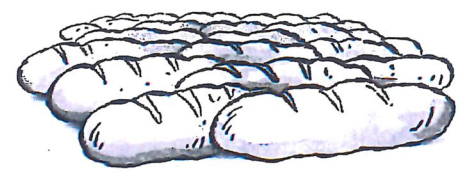
Uit 2 pakken sap schenk ik 15 glazen.
Uit 2 andere pakken nog eens 13.
Ik heb 45 glazen nodig.

Hoeveel glazen heb ik te weinig? 2 glazen



De bakker heeft 93 broden nodig.
Hij heeft er al 87 gebakken.

Hoeveel broden moet hij nog bakken? 6 broden



In het restaurant staan 76 glazen.
39 glazen zijn nog vuil.

Hoeveel schone glazen staan er? 37 glazen



Het restaurant heeft 100 messen.
Op de tafels liggen 52 messen.
In de vaatwasser liggen er 38.

Hoeveel messen zijn kwijt? 10 messen

